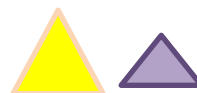


### Итоговый тест по разделу «Сравнение и счёт предметов»

**Цель:** закрепить умение сравнивать предметы, выделять их отличительные особенности, объединять предметы в группы.

1. Как называются изображённые фигуры?



- круги

- круги

- круги

- квадраты

- квадраты

- квадраты

- треугольники

- треугольники

- треугольники

2. Сколько всего фигур в ряду?



- 10


- 9

- 8

3. Составь пары предметов, о которых можно сказать: *длиннее – короче*.



4. Какой гриб кажется тебе лишним?




5. Какую ленту купила Таня, если известно, что эта лента не широкая, не длинная, не зелёная?



**Ключи:**

1. Как называются изображённые фигуры?



- круги

- круги

- круги

- квадраты

- квадраты

- квадраты

- треугольники

- треугольники

- треугольники

2. Сколько всего фигур в ряду?



- 10


- 9

- 8


3. Составь пары предметов, о которых можно сказать: *длиннее – короче.*


4. Какой гриб кажется тебе лишним?

*1 вариант*



*2 вариант*



5. Какую ленту купила Таня, если известно, что эта лента не широкая, не длинная, не зелёная?

