



Простая математика

Запиши предыдущие и последующие числа
("соседей") для данных чисел:



- 1 2 3 4 5 6 7 8 9 10



- 1
- 2
- 3
- 4
- 5
- 6
- 7
- 8
- 9
- 10



- 1
- 2
- 3
- 4
- 5
- 6
- 7
- 8
- 9
- 10



0

1

2

3

4

5

6

7

8

9

10



9

10

11

12

13

14

15

16

17

18



10 11 12 13 14 15 16 17 18 19

11 12 13 14 15 16 17 18 19 20



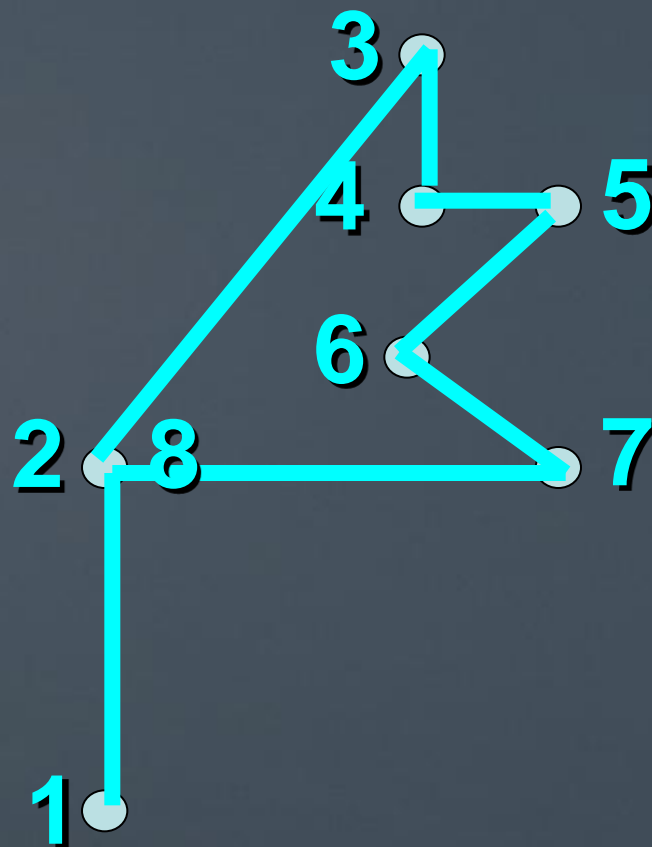
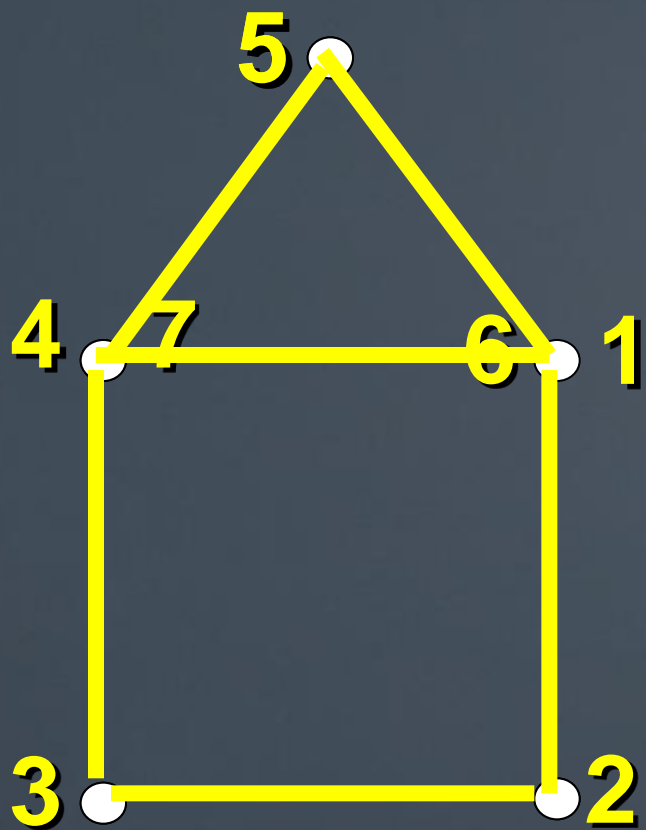
Запиши числа 7, 5, 10, 4, 2, 8
в порядке возрастания.

2	4	5	7	8	10
---	---	---	---	---	----


Запиши числа 0, 12, 4, 11, 6, 3
в порядке убывания.

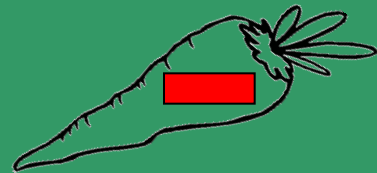
12	11	6	4	3	0
----	----	---	---	---	---

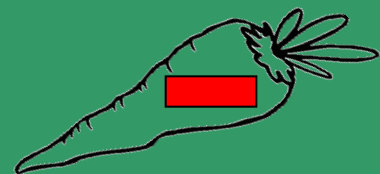
Соедини числа в порядке возрастания
и у тебя получится рисунок.


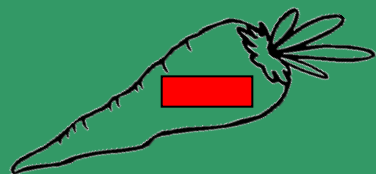


Помоги зайчику собрать съедобные морковки.
Раскрась только те из них,
в которые вписаны натуральные числа.









Число ноль
не является натуральным.



Подчеркни карандашом
неверные неравенства.

$3 > 2$

$\underline{10 > 12}$

$15 < 16$

$\underline{7 < 5}$

$20 > 18$

$16 > 15$

$\underline{9 < 9}$

$17 > 11$

$\underline{21 < 12}$

Сравни числа

($>$, $<$, $=$)

$4 < 8$

$11 > 10$

$13 = 13$

$7 > 6$


$20 > 15$

$0 < 9$

Прочитай.

Помни, что неравенства читают
слева направо!

Прочитай пословицу.



Семеро одного не ждут